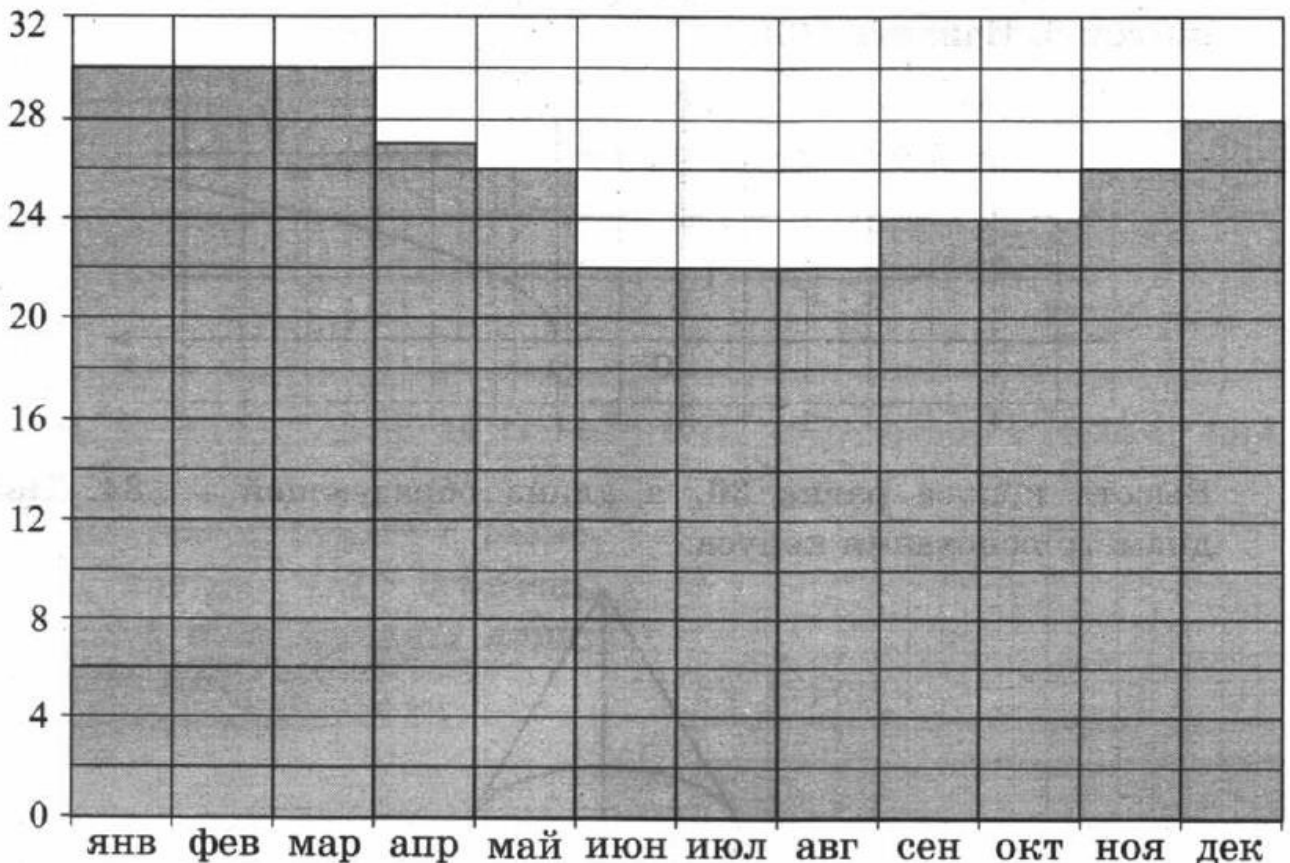
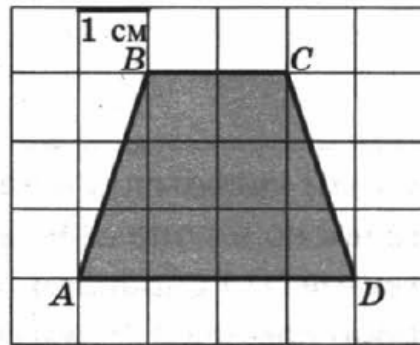


1. Одна таблетка лекарства весит 20 мг и содержит 11% активного вещества. Ребёнку в возрасте до 6 месяцев врач прописывает 1,32 мг активного вещества на каждый килограмм веса в сутки. Сколько таблеток этого лекарства следует дать ребёнку весом 5 кг в течение суток?

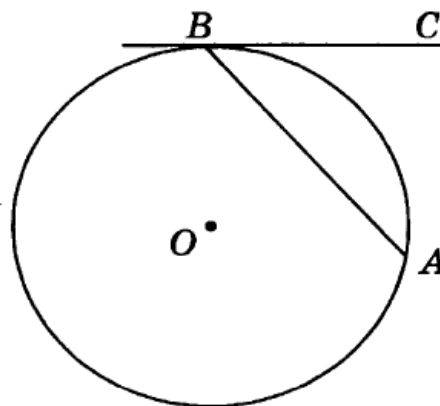
2. На диаграмме показана среднемесячная температура воздуха в Рио-де-Жанейро за каждый месяц 2009 года. По горизонтали указываются месяцы, по вертикали — температура в градусах Цельсия. Определите по диаграмме разность между наибольшей и наименьшей среднемесячной температурой в 2009 году. Ответ дайте в градусах Цельсия.



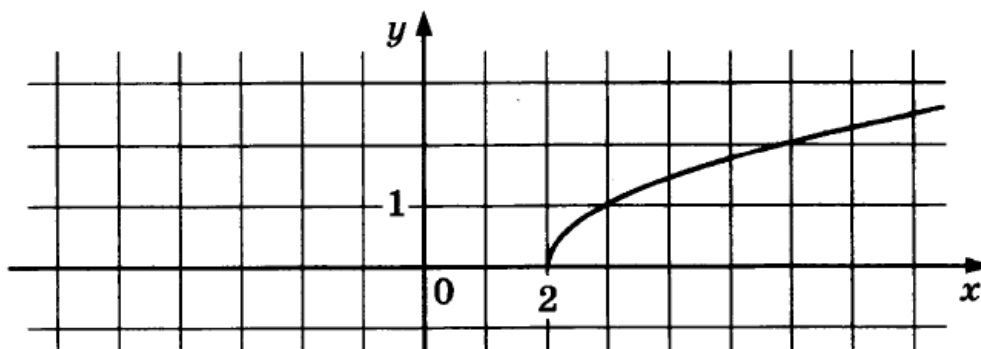
3. Найдите площадь трапеции $ABCD$. Размер каждой клетки $1 \text{ см} \times 1 \text{ см}$. Ответ дайте в квадратных сантиметрах.



4. В среднем из 1800 садовых насосов, поступивших в продажу, 18 подтекают. Найдите вероятность того, что один случайно выбранный для контроля насос не подтекает.
5. Найдите корень уравнения $2^{\log_{10}(9x+4)} = 5$.
6. Хорда AB стягивает дугу окружности в 40° . Найдите угол ABC между этой хордой и касательной к окружности, проведённой через точку B . Ответ дайте в градусах.



7. На рисунке изображен график функции $y = f(x)$. Прямая, проходящая через точку $(-6; -1)$, касается этого графика в точке с абсциссой 6. Найдите $f(6)$.



8. Высота конуса равна 30, а длина образующей — 34. Найдите диаметр основания конуса.



9. Найдите $\cos \alpha$, если $\sin \alpha = \frac{\sqrt{7}}{4}$ и $\alpha \in \left(0; \frac{\pi}{2}\right)$.
10. Для определения эффективной температуры звёзд используют закон Стефана–Больцмана, согласно которому мощность излучения P (в ваттах) нагретого тела прямо пропорциональна площади его поверхности и четвёртой степени температуры: $P = \sigma ST^4$, где $\sigma = 5,7 \cdot 10^{-8}$ — постоянная, площадь поверхности S измеряется в квадратных метрах, а температура T — в градусах Кельвина. Известно, что некоторая звезда имеет площадь поверхности $S = \frac{1}{18} \cdot 10^{21} \text{ м}^2$, а излучаемая ею мощность P равна $4,104 \cdot 10^{27}$ Вт. Определите температуру этой звезды. Дайте ответ в градусах Кельвина.
11. Первая труба наполняет бак объёмом 600 литров, а вторая труба — бак объёмом 900 литров. Известно, что одна из труб пропускает в минуту на 3 л воды больше, чем другая. Трубы начали наполнять баки одновременно. Сколько литров воды в минуту пропускает вторая труба, если баки были наполнены за одно и то же время?
12. Найдите наименьшее значение функции $y = 5 \cos x - 6x + 4$ на отрезке $\left[-\frac{3\pi}{2}; 0\right]$.

Не забудьте перенести все ответы в бланк ответов № 1.

Для записи решений и ответов на задания 13–19 используйте бланк ответов № 2. Запишите сначала номер выполняемого задания (13, 14 и т. д.), а затем полное обоснованное решение и ответ. Ответы записывайте чётко и разборчиво.

13. а) Решите уравнение $6 \sin^2 x + 7 \cos x - 7 = 0$.
б) Найдите все корни этого уравнения, принадлежащие отрезку $[-3\pi; -\pi]$.
14. В правильной треугольной призме $ABCA_1B_1C_1$ сторона основания $AB = 8\sqrt{3}$, а боковое ребро $AA_1 = 5$.
а) Найдите длину отрезка A_1K , где K — середина ребра BC .
б) Найдите тангенс угла между плоскостями BCA_1 и BB_1C_1 .
15. Решите неравенство $9^{x-2} - 37 \cdot 3^{x-3} + 30 \leq 0$.

16. В параллелограмм вписана окружность.
- Докажите, что этот параллелограмм — ромб.
 - Окружность, касающаяся стороны ромба, делит её на отрезки, равные 3 и 2. Найдите площадь четырёхугольника с вершинами в точках касания окружности со сторонами ромба.
17. Предприниматель купил здание и собирается открыть в нём отель. В отеле могут быть стандартные номера площадью 21 квадратный метр и номера «люкс» площадью 49 квадратных метров. Общая площадь, которую можно отвести под номера, составляет 1099 квадратных метров. Предприниматель может поделить эту площадь между номерами различных типов, как хочет. Обычный номер будет приносить отелю 2000 рублей в сутки, а номер «люкс» — 4500 рублей в сутки. Какую наибольшую сумму денег сможет заработать в сутки на своём отеле предприниматель?
18. Найдите все значения a , при каждом из которых уравнение $|\log_{0,5}(x^2) - a| - |\log_{0,5} x + 2a| = (\log_{0,5} x)^2$ имеет хотя бы одно решение, меньшее 2.
19. Известно, что a, b, c , и d — попарно различные двузначные числа.
- Может ли выполняться равенство $\frac{a+c}{b+d} = \frac{7}{19}$?
 - Может ли дробь $\frac{a+c}{b+d}$ быть в 11 раз меньше, чем сумма $\frac{a}{b} + \frac{c}{d}$?
 - Какое наименьшее значение может принимать дробь $\frac{a+c}{b+d}$, если $a > 3b$ и $c > 6d$?