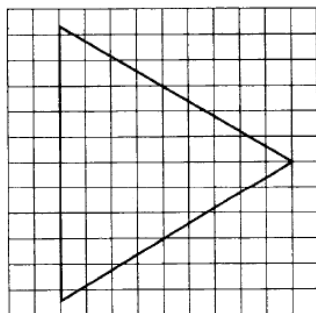
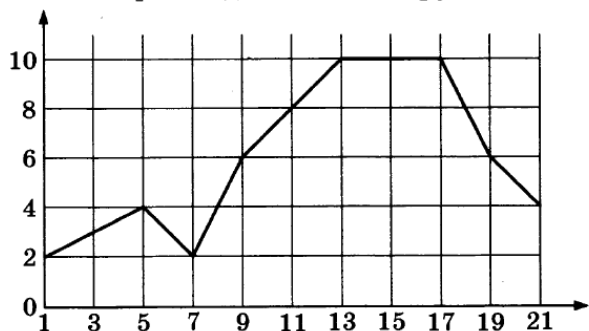


Вариант 50 из 50

Ответом к заданиям 1–12 является целое число или конечная десятичная дробь. Запишите число в поле ответа в тексте работы, затем перенесите его в бланк ответов № 1 справа от номера соответствующего задания, начиная с первой клеточки. Каждую цифру, знак «минус» и запятую пишите в отдельной клеточке в соответствии с приведёнными в бланке образцами. Единицы измерений писать не нужно.

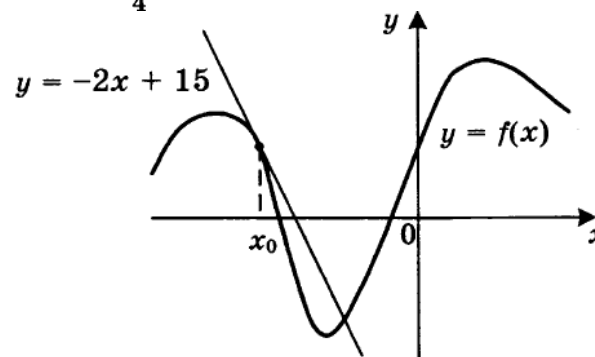
Часть 1

- Пакет молока стоит 21 рубль 30 копеек. Какое наибольшее количество пакетов молока можно купить на 500 рублей?
- Первый посев семян петрушки рекомендуется проводить в апреле при дневной температуре воздуха не менее +6 °С. На рисунке показан прогноз дневной температуры воздуха на первые три недели апреля. Определите, в течение скольких дней за этот период можно производить посев петрушки.

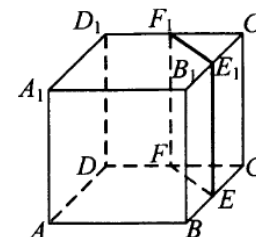


- На клетчатой бумаге с размером клетки 1×1 изображён равносторонний треугольник. Найдите радиус вписанной в него окружности.
- Перед началом первого тура чемпионата по шашкам участников разбивают на игровые пары случайным образом с помощью жребия. Всего в чемпионате участвуют 56 шашистов, среди которых 12 участников из России, в том числе Валерий Стремянкин. Найдите вероятность того, что в первом туре Валерий Стремянкин будет играть с каким-либо шашистом из России.
- Найдите корень уравнения $5^{4-x} = 25$.
- Отрезок AB является хордой окружности с центром O . Найдите угол между прямой AB и касательной к окружности, проходящей через точку A , если угол AOB равен 56° . Ответ дайте в градусах.

- На рисунке изображены график функции $y = f(x)$ и касательная к этому графику, проведенная в точке x_0 . Касательная задана уравнением $y = -2x + 15$. Найдите значение производной функции $y = -\frac{1}{4}f(x) + 5$ в точке x_0 .



- В кубе $ABCD A_1 B_1 C_1 D_1$ точки E, F, E_1 и F_1 являются серединами рёбер $BC, DC, B_1 C_1$ и $D_1 C_1$ соответственно. Объём призмы, отсекаемой от куба плоскостью EFF_1 , равен 14. Найдите объём куба.



- Найдите значение выражения $(558^2 - 23^2) : 581$.
- Ёмкость высоковольтного конденсатора в телевизоре $C = 4 \cdot 10^{-6}$ Ф. Параллельно с конденсатором подключён резистор с сопротивлением $R = 2 \cdot 10^6$ Ом. Во время работы телевизора напряжение на конденсаторе $U_0 = 22$ кВ. После выключения телевизора напряжение на конденсаторе убывает до значения U (кВ) за время, определяемое выражением $t = \alpha RC \log_2 \frac{U_0}{U}$ (с), где $\alpha = 1,7 \frac{с}{\text{Ом} \cdot \text{Ф}}$ — постоянная. Определите напряжение на конденсаторе, если после выключения телевизора прошло 27,2 секунды. Ответ дайте в кВ (киловольтах).
- В сосуд, содержащий 7 литров 15-процентного водного раствора некоторого вещества, добавили 8 литров воды. Сколько процентов составит концентрация получившегося раствора?
- Найдите наибольшее значение функции $y = (21 - x)e^{x - 20}$ на отрезке $[19; 21]$.

Не забудьте перенести все ответы в бланк ответов № 1.

13. Решите уравнение

$$\frac{(\operatorname{tg} x + \sqrt{3}) \log_{13}(2 \sin^2 x)}{\log_{31}(\sqrt{2} \cos x)} = 0.$$

14. В правильной четырёхугольной пирамиде $SABCD$ с вершиной S сторона основания равна 4. Точка L — середина ребра SC . Тангенс угла между прямыми BL и SA равен $\frac{2\sqrt{34}}{17}$.
- а) Пусть O — центр основания пирамиды. Докажите, что прямые BO и LO перпендикулярны.
- б) Найдите площадь поверхности пирамиды.

15. Решите неравенство $\frac{2x^2 - 10x + 6}{x - 5} \leq x$.

16. Окружность с центром O вписана в угол, равный 60° . Окружность большего радиуса с центром O_1 также вписана в этот угол и проходит через точку O .
- а) Докажите, что радиус второй окружности вдвое больше радиуса первой.
- б) Найдите длину общей хорды этих окружностей, если известно, что радиус первой окружности равен $2\sqrt{3}$.
17. В двух областях есть по 90 рабочих, каждый из которых готов трудиться по 5 часов в сутки на добыче алюминия или никеля. В первой области один рабочий за час добывает 0,3 кг алюминия или 0,1 кг никеля. Во второй области для добычи x кг алюминия в день требуется x^2 человеко-часов труда, а для добычи y кг никеля в день требуется y^2 человеко-часов труда.

Для нужд промышленности можно использовать или алюминий, или никель, причём 1 кг алюминия можно заменить 1 кг никеля. Какую наибольшую массу металлов можно добыть в двух областях суммарно для нужд промышленности?

18. Найдите все значения a , при каждом из которых неравенство $\left| \frac{x^2 + x - 2a}{x + a} - 1 \right| \leq 2$ не имеет решений на интервале $(1; 2)$.

19. Решите в целых числах уравнение $3^n + 8 = x^2$.