

Контрольно-измерительные материалы (базовый уровень)

Вариант 7

Ответом к каждому заданию является конечная десятичная дробь, или целое число, или последовательность цифр. Ответ сначала запишите в поле ответа в тексте работы, а затем перенесите в БЛАНК ОТВЕТОВ № 1 справа от номера соответствующего задания. Каждую цифру, знак «минус» и запятую пишите в отдельной клеточке в соответствии с приведёнными в бланке образцами. Единицы измерений писать не нужно.

$$\frac{3,2 - 5,7}{2,5}$$

- 1 Найдите значение выражения $\frac{3,2 - 5,7}{2,5}$.
- 2 На автозаправке клиент отдал кассиру 1000 рублей и попросил залить бензин до полного бака. Цена бензина 32 рубля за литр. Клиент получил 72 рубля сдачи. Сколько литров бензина было залито в бак?
- 3 Установите соответствие между величинами и их возможными значениями: к каждому элементу первого столбца подберите соответствующий элемент из второго столбца.

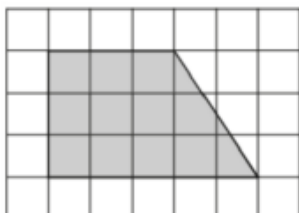
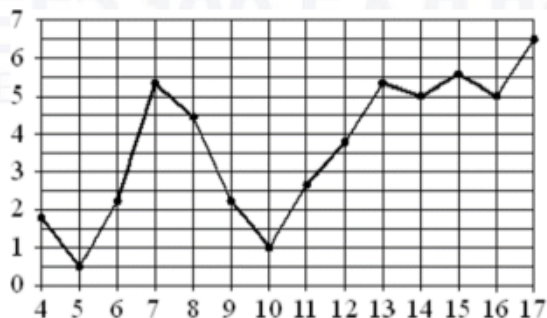
ВЕЛИЧИНЫ

- А) объём воды в Азовском море
- Б) объём ящика с инструментами
- В) объём грузового отсека транспортного самолёта
- Г) объём бутылки растительного масла

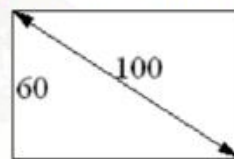
ЗНАЧЕНИЯ

- 1) 150 м³
- 2) 1 л
- 3) 36 л
- 4) 256 км³

- 4 На рисунке жирными точками показана среднесуточная температура воздуха в Риге за каждый день с 4 по 17 апреля 1980 года. По горизонтали указываются числа месяца, по вертикали – температура в градусах Цельсия. Для наглядности жирные точки соединены линией. Определите по рисунку, какого числа среднесуточная температура была наименьшей за данный период.



- 5 План местности разбит на клетки. Каждая клетка обозначает квадрат 1 м × 1 м. Найдите площадь участка, выделенного на плане. Ответ дайте в квадратных метрах.
- 6 Тетрадь стоит 24 рубля. Сколько рублей заплатит покупатель за 60 тетрадей, если при покупке более 50 тетрадей магазин делает скидку 10% от стоимости всей покупки?
- 7 Найдите значение выражения $9 \cdot 10^3 + 5 \cdot 10^2 + 3 \cdot 10^1$.
- 8 Площадь поверхности прямоугольного параллелепипеда с рёбрами a , b и c вычисляется по формуле $S = 2(ab + ac + bc)$. Найдите площадь поверхности прямоугольного параллелепипеда с рёбрами 5, 6 и 20.
- 9 Найдите корень уравнения $\log_2(-5x + 3) = -1$.
- 10 Диагональ прямоугольного телевизионного экрана равна 100 см, а высота экрана – 60 см. Найдите ширину экрана. Ответ дайте в сантиметрах.



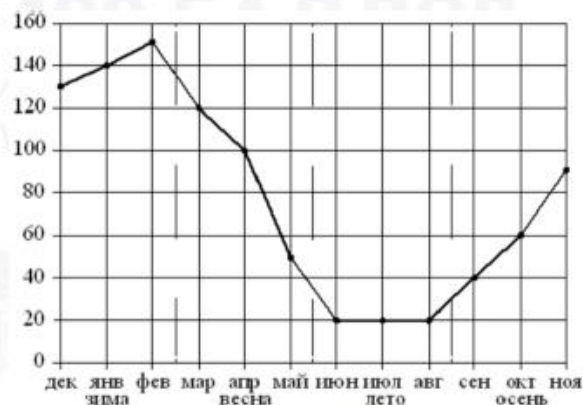
- 11 На чемпионате по прыжкам в воду выступают 20 спортсменов, среди них 5 прыгунов из России и 7 прыгунов из Китая. Порядок выступлений определяется жеребьёвкой. Найдите вероятность того, что вторым будет выступать прыгун из Китая.
- 12 Клиент хочет арендовать автомобиль на сутки для поездки протяжённостью 500 км. В таблице приведены характеристики трёх автомобилей и стоимость их аренды.

Автомобиль	Топливо	Расход топлива (л на 100 км)	Арендная плата (руб. за 1 сутки)
А	Дизельное	7	3700
Б	Бензин	10	3200
В	Газ	14	3200

Помимо аренды, клиент обязан оплатить топливо для автомобиля на всю поездку. Цена дизельного топлива – 25 рублей за литр, бензина – 35 рублей за литр, газа – 20 рублей за литр. Сколько рублей заплатит клиент за аренду и топливо, если выберет самый дешёвый вариант?

- 13 Аквариум имеет форму прямоугольного параллелепипеда с размерами 80 см × 30 см × 40 см. Сколько литров составляет объём аквариума? В одном литре 1000 кубических сантиметров.

- 14 На рисунке точками показаны объёмы продаж обогревателей в магазине бытовой техники. По горизонтали указываются месяцы, по вертикали – количество проданных обогревателей. Для наглядности точки соединены линией.



Пользуясь рисунком, поставьте в соответствие каждому из указанных периодов времени характеристику продаж обогревателей.

ПЕРИОДЫ ВРЕМЕНИ

- А) зима
Б) весна
В) лето
Г) осень

ХАРАКТЕРИСТИКИ

- 1) ежемесячный объём продаж рос, но был меньше 100 штук
2) ежемесячный объём продаж падал
3) ежемесячный объём продаж рос и был больше 120 штук
4) ежемесячный объём продаж не менялся в течение всего периода

- 16 Сторона основания правильной треугольной призмы $ABCA_1B_1C_1$ равна 4, а высота этой призмы равна $4\sqrt{3}$. Найдите объём призмы $ABCA_1B_1C_1$.

- 17 Каждому из четырёх неравенств в левом столбце соответствует одно из решений в правом столбце. Установите соответствие между неравенствами и их решениями.

НЕРАВЕНСТВА

- А) $\log_4 x > 0$
Б) $4^{-x+7} > 16$
В) $\frac{x-1}{x-5} < 0$
Г) $\frac{1}{(x-5)(x-1)} > 0$

РЕШЕНИЯ

- 1) $x < 1$ или $x > 5$
2) $x > 1$
3) $x < 5$
4) $1 < x < 5$

- 18 Виктор старше Дениса, но младше Егора. Андрей не старше Виктора. Выберите утверждения, которые верны при указанных условиях.

- 1) Егор самый старший из указанных четырёх человек.
- 2) Андрей и Егор одного возраста.
- 3) Виктор и Денис одного возраста.
- 4) Денис младше Егора.

В ответе запишите номера выбранных утверждений без пробелов, запятых и других дополнительных символов.

- 19 Найдите четырёхзначное натуральное число, кратное 45, сумма цифр которого на 1 меньше их произведения. В ответе укажите какое-нибудь одно такое число.

- 20 Петя и Митя выполняют одинаковый тест. Петя отвечает за час на 10 вопросов теста, а Митя — на 16. Они одновременно начали отвечать на вопросы теста, и Петя закончил свой тест позже Мити на 117 минут. Сколько вопросов содержит тест?

- 21 В корзине лежит 40 грибов: рыжики и грузди. Известно, что среди любых 17 грибов имеется хотя бы один рыжик, а среди любых 25 грибов хотя бы один груздь. Сколько рыжиков в корзине?

Не забудьте перенести все ответы в бланк ответов № 1 в соответствии с инструкцией по выполнению работы. Проверьте, чтобы каждый ответ был записан в строке с номером соответствующего задания.