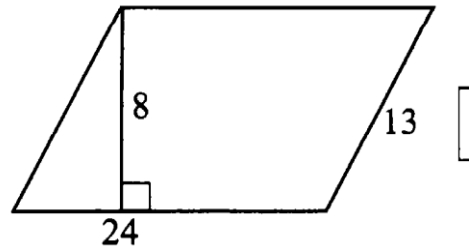


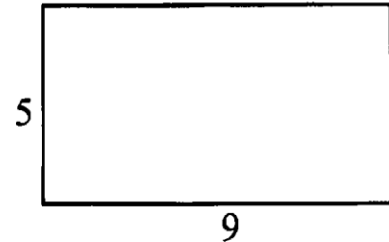
Самостоятельная работа по теме: «Площадь»

Вариант 1

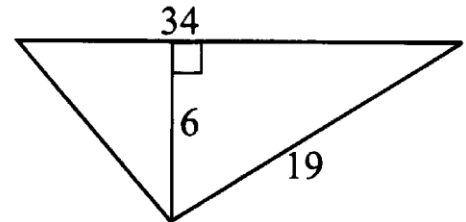
1. Найдите площадь параллелограмма, изображённого на рисунке.



2. Найдите площадь прямоугольника, изображённого на рисунке.



3. Найдите площадь треугольника, изображённого на рисунке.



4. Найдите площадь трапеции, изображённой на рисунке.

